



ESCUELA PRIMARIA RUINAS DE BONAMPAK
CCT15EPR0287R
PROGRAMA DE EDUCACIÓN A DISTANCIA
TAREAS




Semana del 2 al 6 de octubre

GRADO: 2 "C"

Lunes MATERIA	TEMA	TAREA PROGRAMADA	MATERIAL	FECHA DE REVISIÓN
Matemáticas	Ordena números de manera ascendente	Imprime y resuelve en tu cuaderno el ejercicio numero 1	Hoja impresa (ejercicio numero 1)	3 de octubre
Español	Ampliar información acerca de un tema	Imprime, contesta y pega en tu cuaderno el ejercicio numero 2	Hoja impresa (ejercicio numero 2)	3 de octubre
Exploración	A quien me parezco	-Escribe en las líneas <u>mayor que</u> o <u>menor que</u> según corresponda.	ífas	3 de octubre
Martes MATERIA	TEMA			FECHA DE REVISIÓN
Español	Leer y escribir fabulas	$100 + 48$ _____ 167 136 _____ $100 + 54$ $200 + 13$ _____ 199	a la a	4 de octubre
Matemáticas	Compara números	247 _____ $200 + 75$ $100 + 48$ _____ 167 136 _____ $100 + 54$ $200 + 13$ _____ 199 247 _____ $200 + 75$ $100 + 82$ _____ 128	además	4 de octubre
Formación cívica y ética	Mi familia	Colorea y completa el árbol genealógico de tu familia con fotografías o ilustraciones y pégalo en tu cuaderno y escribe ¿Por qué es importante tu familia para ti?	Hoja impresa (ejercicio numero 4)	4 de octubre
Miércoles MATERIA	TEMA	TAREA PROGRAMADA	MATERIAL	FECHA DE REVISIÓN
Matemáticas	coleccionos	Realiza el ejercicio impreso numero 6	Hoja impresa (ejercicio numero 6)	5 de octubre
Español	Leer y escribir fabulas	Realiza la lectura de una fábula de tu elección y contesta el ejercicio 5	Hoja impresa (ejercicio numero 5)	5 de octubre
Exploración	Los sentidos	Investiga para que sirve cada uno de tus sentidos escríbelo en tu cuaderno e ilústralo	.cuaderno e ilustraciones	5 de octubre
Jueves MATERIA	TEMA	TAREA PROGRAMADA	MATERIAL	FECHA DE REVISIÓN
Matemáticas	sucesiones	Repasar de manera oral y escrita sucesiones de 10 en 10 y de 20 en 20 empezando a partir de diferentes números.	cuaderno	6 de octubre
Español	La descripción	Investiga y escribe en tu cuaderno ¿Qué son los adjetivos calificativos? Y escribe 10 ejemplos	cuaderno	6 de octubre
Viernes MATERIA	TEMA	TAREA PROGRAMADA	MATERIAL	FECHA DE REVISIÓN
español		Realiza tu reporte correspondiente a la semana		Lunes 9 de octubre

EJERCICIO 1

Recorta y pega las imágenes en tu cuaderno según la cantidad de mayor a menor junto con su nombre correspondiente.



Cien

Ciento diez

Ciento veinte

Ciento treinta

Ciento cuarenta

Ciento cincuenta

Ciento sesenta

Ciento setenta

Ciento ochenta


Ciento noventa

Doscientos


EJERCICIO 2

-Lee el siguiente texto expositivo.

T.R. Localiza información específica en fuentes consultadas.



Las arañas



Las arañas son muy buenas tejedoras. Ellas fabrican sus telas usando un líquido especial que tienen en su cuerpo. Cuando el líquido sale, se vuelve duro y forma hilos

pegajosos. Con esos hilos, la araña teje una tela. Como la tela es pegajosa le sirve para atrapar insectos. Las arañas se alimentan de los insectos que quedan pegados en sus telarañas.

Centro de Investigaciones Lingüísticas, UN

-En el formato parecido al de una tarjeta están escritas preguntas acerca de la información que leíste, anota las respuestas.




T.R. Selección de información acerca de un tema.

<i>¿Qué sabemos de las arañas?</i>	
<i>¿Cómo fabrican sus telas?</i>	
<i>¿Cómo hace la araña para que de un hilo se forme una tela?</i>	
<i>¿Por qué los insectos no rompen la tela?</i>	
<i>¿Qué clase de animales caen en su tela?</i>	

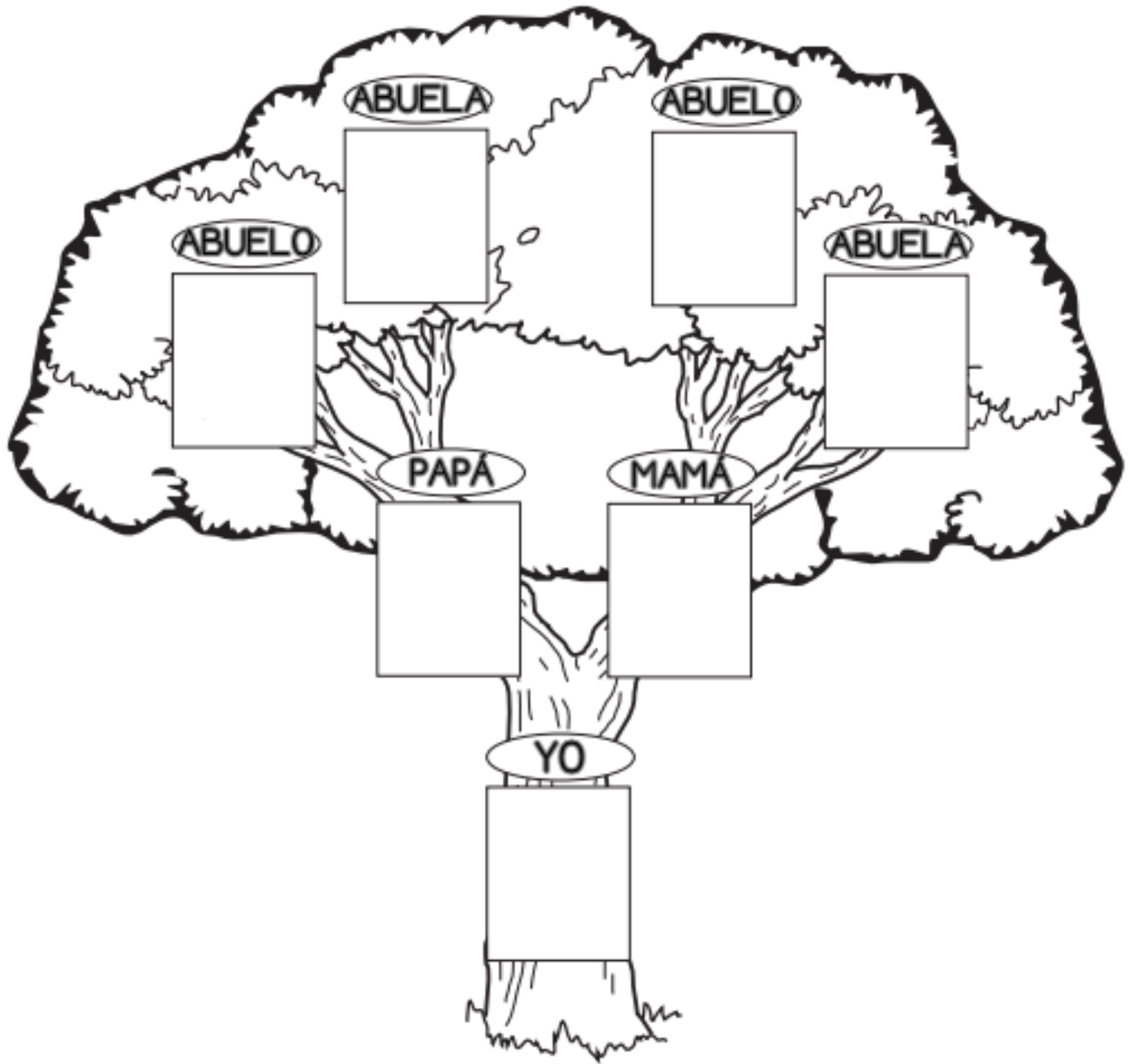
EJERCICIO 3



Ejercicio 5 (dobla por la mitad recorta por las líneas punteadas)

	<p>¿De qué trata la fábula?</p> 
	 <p>Dibuja los personajes</p>
	<p>Título:</p>  <p>Escribe la moraleja</p>


EJERCICIO 4



MI FAMILIA

EJERCICIO 6

INSTRUCCIONES: recorta cada problema y con ayuda de la imagen resuélvelos utilizando datos, operación y resultado como lo haces en clase.



Ángela fue a la tienda de monos de peluche y compró una Rosita fresita, si pago con un billete de \$ 100, ¿cuánto dinero le sobró? _____

Luis trae \$ 40 y quiere comprar un mono de leopardo, ¿cuánto dinero le falta? _____

Ulises compró 3 flores, ¿cuánto pagó? _____

Sofía quiere comprar la muñeca de trapo y sólo tiene ahorrados \$ 52, ¿cuánto dinero le falta? _____

Roberto compró un payasito y un oso, ¿cuánto pagó por los 2? _____

Con un billete de \$ 50, Renata pagó un oso, ¿cuánto dinero le sobró? _____