



ESCUELA PRIMARIA RUINAS DE BONAMPAK

CCT15EPR0287R
 PROGRAMA DE EDUCACIÓN A DISTANCIA
 TAREAS

GRADO: 1° C

Semana del 16 al 20 de Octubre

Lunes MATERIA	TEMA	TAREA PROGRAMADA	MATERIAL	FECHA DE REVISIÓN
Español	-Adivina, adivinador	-Leer la página 18 del libro de Español lectura. - Resolver página 26 a 26 del libro de Español	Libro de texto	
Matemáticas	-Quitar y poner -Problemas matemáticos	-Corta, pega y contesta el anexo 1 -Pasa en tu cuaderno cada problema del anexo 2 y resuélvelo	Anexos	
Exploración	-El lugar donde vivo	-Corta y pega 1 ejemplo de una zona rural y una zona urbana. Papito apóyate del anexo 3 para que pueda explicarle al pequeño cada zona y que vea el siguiente video https://youtu.be/owu5g9hP98I -Realiza un croquis del lugar donde vives (sus comercios, parque, caminos, todo su alrededor)	Anexo Recortes	

Martes MATERIA	TEMA	TAREA PROGRAMADA	MATERIAL	FECHA DE REVISIÓN
Español	-Palabras cortas y largas -Consonantes	-Contesta la página 27 a 30 del libro de Español - Pega 5 palabras de cada una de las consonantes Ca, ce, ci, co, cu. Da, de, di, do ,du. Va, ve, vi, vo, vu. Por ejemplo Casa, Diego, Vela.	Libro de texto Anexos	
Matemáticas	-Problema matemático -Serie numérica	- Realiza la numeración a partir del 30 al 50. Ejemplo 30, 31, 32... -Resuelve la página 29.	Libro de texto	
Exploración	Dónde están mis lugares favoritos	-Lee y resuelve página 21 y 32	Libro de texto	


Miércoles MATERIA	TEMA	TAREA PROGRAMADA	MATERIAL	FECHA DE REVISIÓN
Español	-Lectura de comprensión	-Realiza la lectura de comprensión del anexo 4. -Leer la página 38 del libro de lectura Y resuelve la página 31 al 33	Anexo Libro de texto	
Matemáticas	-Problemas matemáticos	-Resuelve página 30 y 31 del libro de texto -Realizar dictado de números (utilizar del 20 al 40)	Libro de texto	
Formación	-Diferentes e iguales	-Divide la hoja a la mitad y pega una niña jugando de un lado y del otro un niño jugando y escribe las características que tiene en que se parecen -Investiga y anota lo que entiendes por respeto	Cuaderno Investigación	

Jueves MATERIA	TEMA	TAREA PROGRAMADA	MATERIAL	FECHA DE REVISIÓN
Español	-Dictado	-Realiza dictado de palabras de las consonantes C, D, V., hasta el 10 1.- Carlos 2.- dedo 3.- vaso -Resuelve la página 34 a 36 del libro de texto de Español.	Libro de texto Cuaderno	
Matemáticas	-Lo que falta	-Resuelve la página 32 y 33 del libro de texto	Libro de texto	
Exploración	-La Independencia	-Leer la página 35 y resuelve la página 36 del libro de texto	Libro de texto	

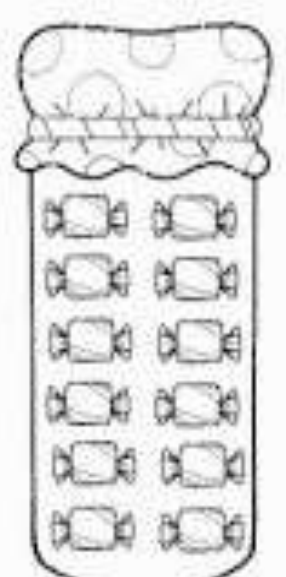

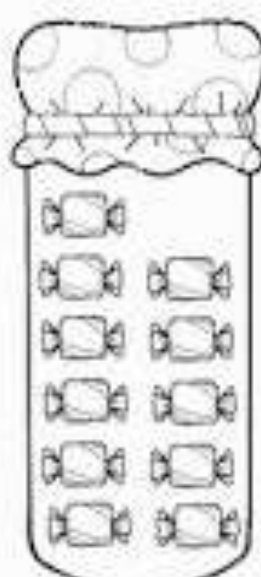
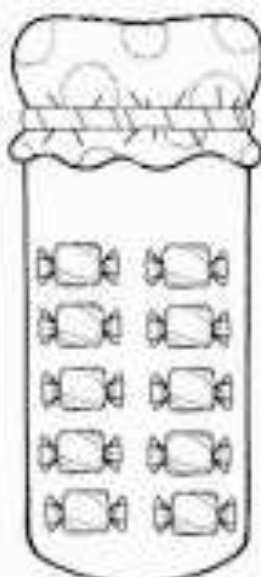
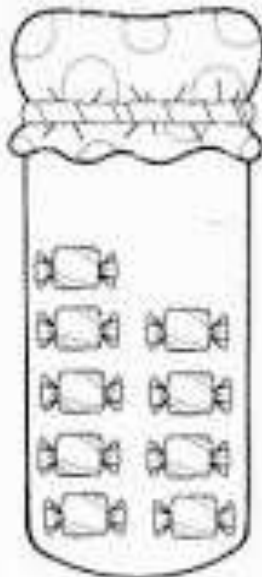
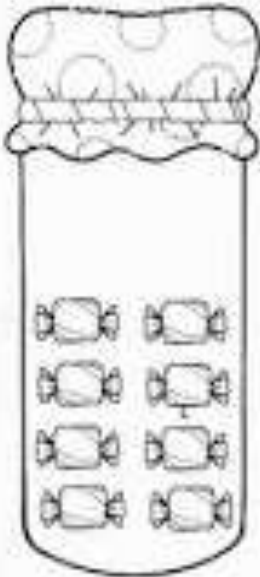
Viernes MATERIA	TEMA	TAREA PROGRAMADA	MATERIAL	FECHA DE REVISIÓN
Español	-Recado	<i>Papito apóyate del anexo 5 para que pueda explicarle como se conforma un recado</i> Contesta la página 38 de tu libro de texto	Anexo Libro de texto	
Matemáticas	-Operaciones	-Resuelve las siguientes sumas y restas en tu cuaderno $\begin{array}{r} 5 \quad 8 \\ +4 \quad +2 \\ \hline \end{array}$ $\begin{array}{r} 6 \quad 5 \\ -3 \quad -9 \\ \hline \end{array}$ $\begin{array}{r} 7 \quad 3 \\ +4 \quad +2 \\ \hline \end{array}$ $\begin{array}{r} 7 \quad 9 \\ -2 \quad -5 \\ \hline \end{array}$		

ANEXO 1

INSTRUCCIONES: Dibuja los dulces que faltan para que cada niño tenga la misma cantidad que marcan los dados



INSTRUCCIONES: Colorea los dulces que marca el número y dibuja los que hagan falta.



ANEXO 2

INSTRUCCIONES: Pasa en tu cuaderno los siguientes problemas y resuélvelos.

1.- Hay 12 niños en el salón de 2° grado, pero se dieron de baja 9 ¿Cuántos niños quedaron?

Operación

Resultado

2.- En un árbol hay 14 pájaros pero 8 se fueron volando ¿Cuántos pájaros se quedaron en el árbol?

Operación

Resultado

3.- Sara tiene 17 duraznos, va al mercado y vende 4 ¿Cuántos duraznos le quedaron?

Operación

Resultado

ANEXO 3

INSTRUCCIONES: Únicamente pegar cada concepto en el cuaderno.

Las **zonas rurales** se componen de campos en los cuales se desarrolla la agricultura y se cría ganado.



La **zona urbana** es aquella zona que se encuentra habitada por una cantidad mayor a los 2000 habitantes, esta se caracteriza por su amplio desarrollo en los sectores de industrias y sectores de servicios.



INSTRUCCIONES: Lee la lectura y responde las preguntas

Las monedas de Dante 4



Dante tiene dos monedas que le dio su tío Adán. Una dona cuesta dos monedas pero nada le va a quedar. Dos monedas por la dona y una sola quiere dar, pero dice el de la tienda que las dos tiene que dar. Dante pide más monedas y su tío se las da. Dante va hasta la tienda por dos donas, una para Dante y otra para su tío Adán.

11
18
25
33
41
48
57
64
70
74

Leo _____ palabras por minuto.

Contesta las preguntas.

1.- ¿Cuántas monedas tiene Dante?

R= _____.

2.- ¿Quién le dio más monedas?

R= _____.

3.- ¿Qué compró con sus monedas?

R= _____.

INSTRUCCIONES: Explicar las partes de un recado y pegar la hoja en el cuaderno

El recado

Son los mensajes breves que se usan para comunicarse con personas que no están presentes.



Se componen de:

Fecha →

4 de Noviembre del 2005

Destinatario → Mamá :

Mensaje → Estoy con mi tía Lupita
ella paso por mi a la escuela
no te preocupes, me llevará
por la tarde.

Firma → MARIANA